

**NOVIODUNUM**  
à l'époque gallo-romaine



**COUP D'ŒIL SUR  
JUBLAINS**

**Activités pédagogiques**

---

Musée archéologique départemental de Jublains

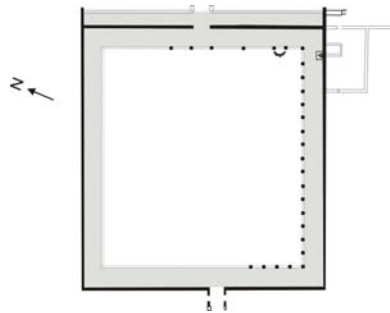


**LA MAYENNE**  
CONSEIL GÉNÉRAL

# Coup d'œil sur le temple

1. *Effectue le tour du temple*, puis :

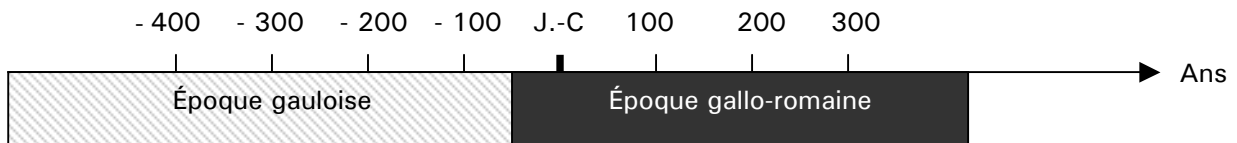
- replace le bâtiment manquant sur le plan ci-dessous
- indique l'entrée principale du temple par une flèche



À quoi pouvait servir le bâtiment que tu viens de dessiner?.....  
 .....

2. La construction du sanctuaire gaulois et du temple gallo-romain correspond à deux époques différentes.

Indique sur la frise ci-dessous les dates de construction de chacun des deux monuments :





3. Relie ces trois matériaux au bon monument :

- |            |   |                      |
|------------|---|----------------------|
| - calcaire | ▪ | ● temple romain      |
| - bois     | ▪ | ● sanctuaire gaulois |
| - granite  | ▪ |                      |

Que peux-tu en déduire ?.....

4. Dans le temple, pour vénérer un dieu, les fidèles avaient une habitude bien particulière. Grâce au rébus ci-dessous, trouve le mot qui correspond à la définition suivante : « offrande à une divinité ».



-----

# Coup d'œil sur le parcours archéologique

1. Quel est le nom antique de Jublains ?

\_\_\_\_\_

Sur le plan de la ville ci-dessous, trace les rues manquantes que tu vas maintenant emprunter.  
Que remarques-tu ?

.....  
.....



2. Repère et place les monuments antiques sur le plan : **temple, forum, thermes, théâtre et forteresse.**

Ainsi, tu constates que la ville s'étend sur un axe, celui-ci est-il orienté : (souligne la bonne réponse)

Est-ouest ?

Nord-sud ?

3. Quel monument, aujourd'hui totalement disparu, trouvait-on à la place de la maison de la Tonnelle ?

LE

\_\_\_\_\_

À quoi servait ce monument ?.....

.....

4. Sais-tu comment est appelée la personne qui découvre puis analyse les vestiges ?

\_\_\_\_\_

**Musée archéologique départemental de Jublains**

# Coup d'œil sur les thermes

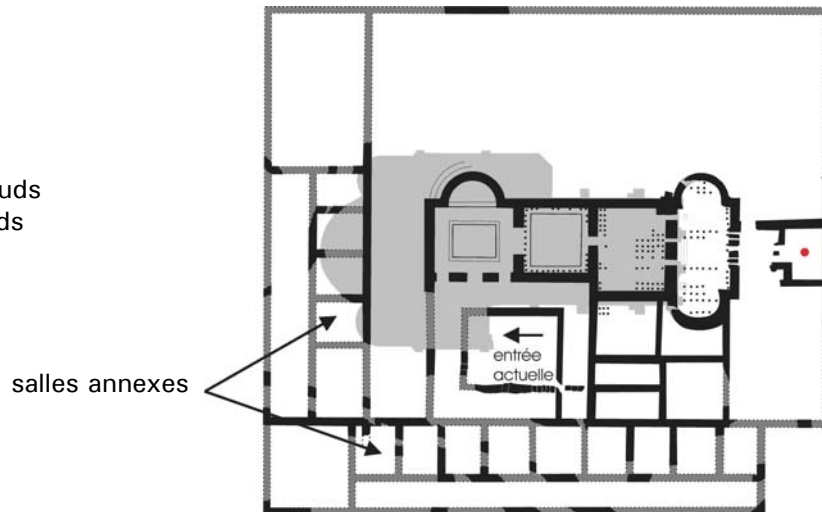
1. Les thermes qui se trouvent sous l'église sont très vastes, peux-tu énumérer les diverses activités qui pouvaient y être pratiquées ?

.....

.....

2. Voici un plan des thermes publics, replace les différentes salles au bon endroit à l'aide des lettres :

- a- la salle tiède
- b- l'étuve
- c- la salle des bains chauds
- d- la salle des bains froids
- e- la palestra



Quelle était l'utilité des salles annexes qui étaient situées en bordure des rues ?

.....

3. Voici une photo représentant une partie du système de chauffage.

Donne le nom de ce système : .....

Quels sont les 4 éléments principaux qui constituent ce système de chauffage ?

.....

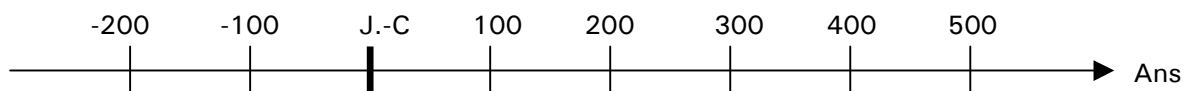
.....

.....

.....




4. Sur la frise, colorie la période durant laquelle les thermes ont été utilisés :



# Coup d'œil sur le théâtre

1. Replace ces désignations sur le théâtre, à l'aide de flèches.



2. **Il te faut rejoindre l'emplacement du bâtiment de scène**, puis en observant le théâtre et le paysage, peux-tu dire pourquoi il a été construit à cet endroit ?

.....

.....

3. Le théâtre de Jublains, construit au 1<sup>er</sup> siècle, a été refait au 2<sup>e</sup> siècle. Voici une représentation du théâtre du 1<sup>er</sup> s.

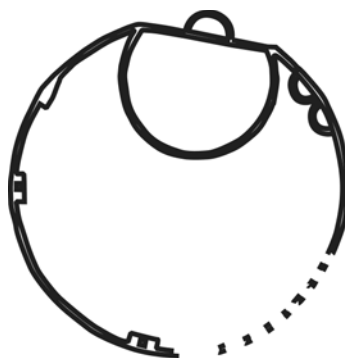
À toi de dessiner celui du 2<sup>e</sup> s.

Que remarques-tu ? et pourquoi ?

.....

.....

.....



4. Ce théâtre a été offert à la cité par un riche mécène qui porte un nom gaulois, qui est-il ?






-----

# Coup d'œil sur le musée

Le musée de Jublains rassemble des collections datant de plusieurs époques :

- l'époque gauloise
- l'époque gallo-romaine
- le moyen-âge

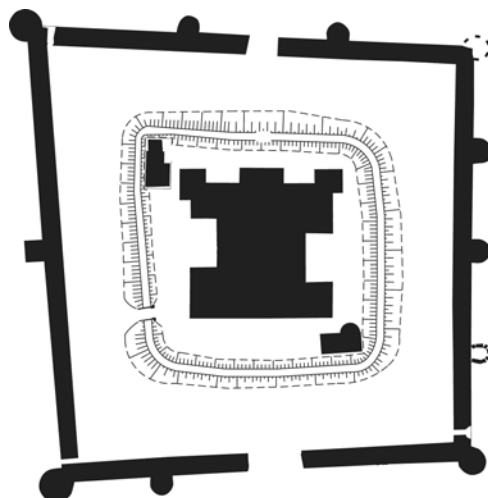
Le questionnaire ci-dessous va te faire découvrir des objets marquants de toutes ces périodes. Réponds aux différentes questions.

<p>Voici un objet datant de l'âge du fer, une épée trouvée à Neau.</p> <p>Quelles sont les dates de l'âge du fer ?</p> <p>.....</p>		<p>En lisant les panneaux lumineux, cherche la réponse à la question suivante :</p> <p>Quel est l'autre nom donné à l'âge du fer, en Gaule ?</p> <p>.....</p>
<p>Le cerf est un animal très présent dans la mythologie gauloise. Celui représenté ci-contre est une figurine en bronze trouvée dans un sanctuaire à Juvigné , en Mayenne.</p>		<p>Qu'est-ce que le cerf évoque dans la religion celtique ?</p> <p>.....</p> <p>Et pourquoi ?.....</p> <p>.....</p>
<p>Les bornes milliaires sont l'équivalent de nos panneaux indicateurs. Elles étaient placées le long des voies romaines.</p>		<p>La borne de la Petite-Beltière porte une indication de distance. Peux-tu dire à combien de mètre, correspond une lieue ?</p> <p>1 lieue = .....m</p>
<p>Lors des fouilles, les céramiques sont trouvées en très grand nombre, témoins de la vie quotidienne. Il en existe de toutes les sortes et de toutes les tailles.</p>		<p>En observant les vitrines, peux-tu citer 2 types de céramiques ?</p> <p>.....</p> <p>.....</p>
<p>Jublains a évolué au fil du temps, de l'époque gauloise à l'époque gallo-romaine puis au moyen-âge.</p>		<p>À quel évêché la ville de Jublains est-elle rattachée à partir du 4<sup>e</sup> siècle ?</p> <p>Évêché .....</p>

# Coup d'œil sur la forteresse 1

1. Voici un plan simplifié de la forteresse.

Situe et nomme les trois parties qui la constituent, de la plus ancienne (1) à la plus récente (3).



1.....

2.....

3.....

2. À l'aide de flèches, replace les différentes parties qui constituent le bâtiment central :

petits thermes

citerne


grands thermes

tours

cour à ciel ouvert



3. Complète le dessin autour de la porte afin de reconstruire le mur tel qu'il était à l'origine.



# Coup d'œil sur la forteresse 2

1. De part et d'autre du bâtiment central, on peut observer 2 autres bâtiments dont la fonction était identique.



- peux-tu dire à quoi ils servaient ?

.....


- pourquoi leur taille est-elle différente ?

.....

2. De combien d'ouvertures est doté le rempart en terre qui entoure le bâtiment central ?.....

**Lis bien les questions n°3 et n°4 puis fais le tour de la muraille par l'extérieur.**

3. Le dessin de la muraille a été volontairement modifié, et comporte 4 erreurs, entoure-les.




4. Dessine, en face des matériaux notés, la façon dont est construite la muraille.

moellons →

briques →

gros blocs de granite →





# Bilan de la visite de Jublains

<p><b>1.</b> Comment s'appelait Jublains dans l'antiquité?</p>	<p>..... ..... .....</p>
<p><b>2.</b> Qu'était Jublains avant l'époque romaine ?  Qu'est devenu le site à l'époque romaine ?</p>	<p>..... ..... .....</p>
<p><b>3.</b> À quoi servait le forum ?  Qu'est-ce que cela nous indique sur la fonction de Jublains ?</p>	<p>..... ..... .....</p>
<p><b>4.</b> Nous avons rencontré un personnage des classes dirigeantes.  Comment se nommait-il ?  Qu'a t-il fait ?</p>	<p>..... ..... .....</p>
<p><b>5.</b> Quelles sont les caractéristiques du plan de la ville de Jublains ?</p>	<p>..... ..... .....</p>
<p><b>6.</b> Qu'est-ce qu'un temple ?  Quelle est l'importance du temple de Jublains ?</p>	<p>..... ..... .....</p>

<p><b>7.</b>          Quelles activités pratiquaient-on dans les thermes publics ?</p> <p>Qu'est-ce que cela nous apprend sur le mode de vie des Gallo-romains ?</p>	<p>.....</p> <p>.....</p> <p>.....</p> <p>.....</p>
<p><b>8.</b>          Comment les bains romains étaient-ils chauffés ?</p>	<p>.....</p> <p>.....</p> <p>.....</p> <p>.....</p>
<p><b>9.</b>          Le théâtre de Jublains ressemble t-il à un théâtre romain classique ?</p> <p>Que nous indique sa reconstruction au 2<sup>e</sup> siècle ?</p>	<p>.....</p> <p>.....</p> <p>.....</p> <p>.....</p>
<p><b>10.</b>          Quelle pouvait-être la fonction de la forteresse à l'origine ?</p> <p>Quels éléments nous montrent son évolution ?</p>	<p>.....</p> <p>.....</p> <p>.....</p> <p>.....</p>
<p><b>11.</b>          La muraille de la forteresse est caractéristique des remparts du Bas-empire :</p> <p>Décris son mode de construction.</p>	<p>.....</p> <p>.....</p> <p>.....</p> <p>.....</p>
<p><b>12.</b>          Qu'est devenu Jublains au Bas-empire (3<sup>e</sup> -5<sup>e</sup> siècle) ?</p>	<p>.....</p> <p>.....</p> <p>.....</p> <p>.....</p>